

Шифр участника Тг-8-03

ВСЕРОССИЙСКАЯ ОЛИМПИАДА ШКОЛЬНИКОВ ТЕХНОЛОГИЯ.
НАПРАВЛЕНИЕ «КУЛЬТУРА ДОМА, ДИЗАЙН И ТЕХНОЛОГИИ». 2023–2024 уч. г.
МУНИЦИПАЛЬНЫЙ ЭТАП 7-8 КЛАССЫ

На выполнение заданий теоретического тура олимпиады по технологии отводится 2 академических часа - 90 минут. Работа включает 21 задание:

- общая часть 5 заданий,
- специальная часть 15 заданий,
- 1 кейс – задание.

60 } всего 7 баллов
15 }

Максимальное количество баллов:

- за общую часть 5 баллов;
- за специальную часть 15 баллов;
- кейс задание 5 баллов.

Баллы, полученные за все выполненные задания, суммируются.

Максимально возможное количество баллов за работу – 25.

ОБЩАЯ ЧАСТЬ

1. Чем занимается дизайнер одежды? Выберите правильный ответ.

1. разработкой художественных и технических эскизов и дизайна моделей одежды и аксессуаров
2. запуском производства дизайнерских тканей и фурнитуры
3. продажей коллекций дизайнерской одежды

Ответ: 1 0,5

2. На сегодняшний день нанотехнологии делят на три направления. Выберите правильные ответы.

1. сборка из отдельных атомов любых веществ и объектов;
2. изготовление электронных схем размером до нескольких атомов;
3. изготовление декоративных изделий
4. создание наномашин (механизмов размером в несколько атомов).

Ответ: 1, 2, 4 1,5

3. Впишите пропущенное слово.

Существует четыре основных этапа проектирования: художественный поисковый, технологический, аналитический. 0,5

4. Выберите правильный ответ. Реклама — это

1. разработкой художественных и технических эскизов и дизайна
2. процесс планирования задач компании, в котором детально расписаны шаги по развитию компании
3. форма представления и продвижения идей, товаров, услуг от имени какой-либо компании

Ответ: 3 1,5

5. Логическая задача. Какое изделие зашифровано в представленных картинках?




Ответ: Робот

0,5

СПЕЦИАЛЬНАЯ ЧАСТЬ

6. Городецкая роспись — русский народный художественный промысел. Выберите из предложенных вариантов правильный.



Ответ: 1

0,5

7. Как называется народная игрушка, представленная на картинке? Выберите правильный ответ.



1. Абашевская

2. Филимоновская

3. Дымковская

4. Семеновская

Ответ: 3

0,5

8. Вставьте недостающее слово. Основой правильного расположения кухонных элементов, сантехники, функциональных зон является «рабочий треугольник». В него входят: мойка, рабочий стол, плита. 0,5

9. Для чего создается декоративное освещение в интерьере?

Ответ: Декоративное освещение создается для более уютной атмосферы 0,5

10. Впишите название старинного русского головного убора в виде гребня (опахала, полумесяца или округлого щита) вокруг головы, символа русского традиционного костюма.

				Ш			
--	--	--	--	---	--	--	--

 0,5

11. Как называется девичий головной убор чувашей?



Ответ: _____ 0,5

12. Существует несколько методов конструирования одежды. Самые распространенные из них муляжный и расчетный. Какой из способов наиболее затратный и почему?

Ответ: Муляжный 0,5

13. Выберите способы конического расширения юбки

1. Расширение за счет линии бока
2. Расширение за счет добавления складок
3. Расширение за счет частичного закрытия вытачки и раздвижения выкройки
4. Расширение за счет закрытия вытачки

Ответ: 3 0,5

14. Какая из перечисленных тканей изготавливается из шерстяных волокон?

1. ситец
2. байка
3. драп
4. габардин

Ответ: 2 05

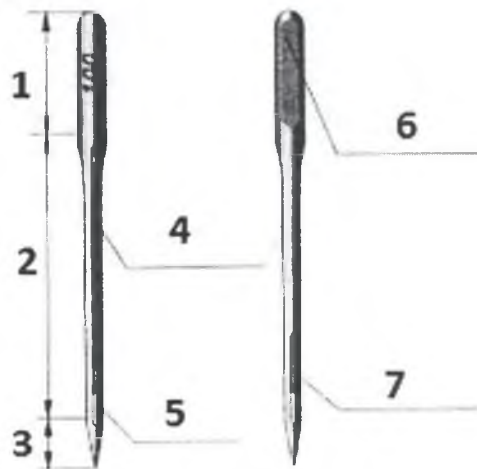
15. Напишите правильный ответ. Драпируемость это –

16. Что может произойти, если в швейной машине погнулась игла?

1. машина будет пропускать стежки в строчке;
2. поломается игла
3. будет обрыв верхней нити
4. будет обрыв нижней нити
5. ткань будет стягиваться

Ответ: 1 05

17. Обозначьте цифрами соответствие частей иглы, изображенной на рисунке, их наименованию.



Ответ:

Название	Номер на картинке
Стержень	4 -
Колба	5 -
Длинный желобок	2 -
Острие	3 +
Ушко	4 -
Короткий желобок	1 -
Плоская сторона колбы	6 +

15

18. Для максимального сохранения в овощах минеральных солей их:

1. пассеруют
2. варят на пару
3. запекают в духовом шкафу;
4. жарят
5. варят в воде

Ответ: 1

0,55

19. Это одна из самых красочных гладьевых вышивок. Техника шитья была разработана золотошвеями, что позволяло им экономно расходовать материал. Метод вышивки гладью белыми или цветными нитками. И в белой и в цветной глади используют мотивы растительного характера. Узоры белой глади состоят из мелких цветочков и листочков, травинок и ягод, образующих букеты, гирлянды, полосы, углы. Как называется этот метод вышивки?




Выберите правильный ответ.

0,5

1. Китайская гладь	2. Владимирская гладь	3. Хохломская гладь
--------------------	-----------------------	---------------------

Ответ: 3

20. Какие инструменты/приспособления необходимы для создания изделий, представленных на рисунках? Подпишите.



А. <u>шниця</u>	Б. <u>крючок</u>	В. <u>шниця</u>
-----------------	------------------	-----------------

0,5

КЕЙС-ЗАДАНИЕ

Кейс-задача. Разработать эскиз детского костюма, с элементами авторской орнаментальной композиции используя источник творчества, представленный на рисунке.

Алгоритм действий

1. Изучите внимательно изображение источника творчества и его краткое описание (рис.1).
2. На основе данного изображения выполните стилизацию (условное изображение).
3. Разработайте орнаментальную композицию на основе выполненной стилизации.
4. Выполните эскиз модели детского костюма, используя созданную орнаментальную композицию.
5. Какую технику выполнения декорирования текстиля Вы предлагаете использовать для оформления предложенной модели?
6. Напишите название модели, стилистическое направление, укажите назначение разработанной Вами модели костюма.




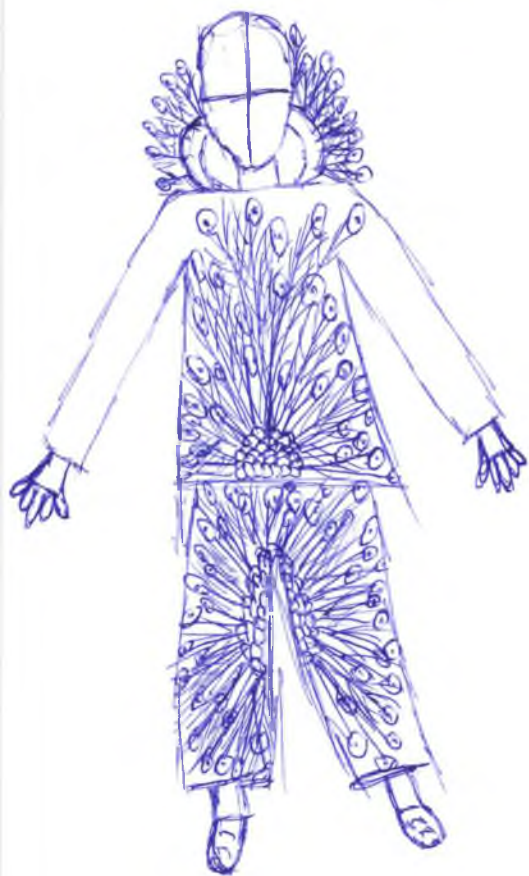
Рис.1. Павлин

Павлины – род крупных птиц из подсемейства фазанов семейства фазановых. Удлиненный хвост павлинов плоский, в то время как у большинства фазановых – крышеобразный. Благодаря пышному, распускаемому веером глазчатому «хвосту» павлин известен как самая красивая птица среди курообразных.

Тг-8-03

ЭСКИЗ МОДЕЛИ

Детский костюм „Павлиний хвост“



ЛИСТ СОПРОВОЖДЕНИЯ / ПРАЙС-ЛИСТ НА ПРОЕКТИРУЕМОЕ ИЗДЕЛИЕ

1. Название модели

2. Стилистическое направление костюма

3. Функциональность/назначение костюма

Отличный вариант в качестве новогоднего костюма
Таблица

15

4. Вид или техника декорирования текстиля для оформления модели

Таблицный хвост а именно перья "швага" можно сделать
с помощью вышивки

Продуманные перья: Анна М. В. Шварц

Челки перья: Е. Писоцкий Н. Т.

Е. Писоцкий С. И.
Вешняков С. И.

Stallauf Мейманова В. Т.